

تم تحميل وعرض المادة من :

مراجعاتي

www.mrajati.net



موقع مراجعاتي هو منصة تعليمية مستقلة وجهد تعليمي تطوعي تهدف إلى تقديم محتوى تعليمي مساعد وخدمات مساندة مجانية للطلاب وأولياء الأمور والمعلمين، بما في ذلك - على سبيل المثال لا الحصر - الحلول التعليمية، الملخصات، أوراق العمل، المراجعات، نماذج الاختبارات التدريبية، الشروحات، والمواد التعليمية المساندة، نحن نسعى جاهدين للتكامل مع المنظومة التعليمية الرسمية بما يخدم مصلحة الطالب والمعلم وولي الأمر،، جزى الله خيراً من بادر وتعاون في تقديم النفع والفائدة.

ذلك قريب منا.. حمل تطبيقنا للوصول الدائم لأسرع المراجعات والحلول التعليمية.



تابع حساباتنا على :

الوحدة الخامسة : الأرض والخريطة

الدرس الأول : الأرض

الأرض

جزء من **المجموعة الشمسية** التي خلقها الله عز وجل في الكون، وجعل الإنسان فيها؛ ليعمرها ويستفيد منها

شكل الأرض

وصفها العلماء منذ قديم الزمن – ومنهم العلماء المسلمون – بأنها كُرْوِيَّة الشكل، ولذلك تسمى الكرة الأرضية.

لماذا لا نرى الشكل الكروي للأرض؟

- الأرض كبيرة جداً.
- الرؤية للشكل الكروي تكون من ارتفاعات عالية جداً أو من مسافات بعيدة جداً.

الدرس الثاني : أشكال سطح الأرض

سطح الأرض

ينقسم سطح الأرض إلى قسمين، هما:

١- **اليابسة:** وهي تتكون من كتل كبرى من اليابس تسمى كلٌّ منها قارة، وفيها الجبال والسهول، وتُشكّل ٢٩٪ من سطح الأرض.

٢- **الماء:** وهو يتكون من خمسة مسطحات مائية كبرى، تسمى محيطات، إضافةً إلى عدد من البحار والأنهار، وتُشكّل ٧١٪ من سطح الأرض.

أكثر القارات سكاناً

يعيش الناس في كل قارات العالم عدا القارة القطبية الجنوبية؛ لشدة البرودة والجفاف فيها، ويختلف عدد السكّان بين القارات، فأكثرها سكاناً هي قارة آسيا، وأقلها هي قارة أستراليا.

يزداد عدد السكان في المناطق الساحلية، وبالقرب من الأودية، ومنابع المياه، في حين يقل عدد السكان في الصحاري وأعلى الجبال.

الدرس الثالث : دوران الأرض

حركات الأرض

حركات الأرض:

الأولى: حول محورها، وينتج عنها تعاقبُ الليل والنهار.

الثانية: حول الشمس، وذلك في ٣٦٥ يوماً و ٦ ساعات، وتنتج عنها الفصول الأربعة

لو كانت الأرض ثابتة لما صار هناك **فصول مناخية** متنوعة، ولأن الأرض تدور حول الشمس فإن هناك مناطق حارة وباردة ومعتدلة كما أرادها الله سبحانه وتعالى.

وقد جعل الله لنا **أربعة فصول** تتعاقب في الحدوث في السنة، هي: الشتاء والربيع والصيف والخريف، ويكون المناخ والفصول في نصف الكرة الجنوبي على العكس من نصف الكرة الشمالي.

دوران الأرض حول الشمس

يؤدي إلى حدوث الفصول الأربعة.

أهمية تنوع الفصول الأربعة

- نعمة من الله للبشر
- تنوع المحصولات الزراعية ونضجها
- التنوع البيئي
- التنوع في النشاط البشري



الدرس الرابع : دوران القمر حول الأرض

القمر

كوكب تابع لأرض غير مضيء، وهو يعكس لنا ضوء الشمس، ونحن لا نرى منه سوى الجهة المضيئة، وأما الجهة الأخرى فإنها مظلمة.

دورة القمر حول الأرض

يدور القمر حول الأرض مرة كل شهر؛ فينتج عن ذلك الشهر القمري، مثل: (المُحَرَّم، صَفَر). ويكون القمر في أول الشهر هلالاً، ثم يبدأ بالظهور فيكون عند منتصف الشهر بَدْرًا عندما نراه بصورته الدائرية الكاملة، وعندما يختفي يكون مَحَاقًا (القمر الوليد).

السنة القَمَرِيَّة:

هي المدة التي يأخذها القمر لدوران حول الأرض، التي تكون 12 مرة (أي 12 شهرًا)، لتغطي السنة القمرية (الهجرية) عند العرب والمسلمين، وتبدأ بشهر المحرم وتنتهي بشهر ذي الحجة. ويظهر القمر بأشكال مختلفة عند دورانه حول الأرض مقابل الشمس، وتسمى هذه الأشكال أوجه القمر، وكل وجه من أوجه القمر يمثل مساحة مختلفة من الجزء المضاء من القمر.

كُسُوف الشمس

هو احتجاب ضوء الشمس عن جزء من الأرض، وذلك عندما يتوسط القمر بينهما.

كُسُوف القمر

هو احتجاب ضوء الشمس عن القمر، وذلك عندما يكون القمر بَدْرًا وتتوسط الأرض بينه وبين الشمس، فيقع ظلها عليه فتحجب عنه ضوء الشمس فيبدو مظلمًا.

الدرس الخامس: الخريطة

الخريطة

رسم توضيحي لسطح الأرض أو لجزء منه، وهي من أقدم الوسائل التي ابتكرها الإنسان من أجل معرفة مظاهر الطبيعة والمكان الذي يعيش فيه، مع تدوين معلومات يريد أن يحتفظ بها لنفسه أو ينقلها للآخرين.

فوائد الخريطة:

◀ تساعدنا الخريطة على تحديد الأماكن ومواقعها، مثل: تحديد موقع وطني المملكة العربية السعودية بين دول العالم.

◀ تساعدنا على معرفة المدن داخل وطني والمسافات بينها

عناصر الخريطة

الإطار	تحديد الاتجاه	مقياس الرسم	مفتاح الخريطة	عنوان الخريطة
هو ما يحيط بالخريطة من الخارج.	يُحدّد اتجاه الشمال ومن خلاله نعرف بقية الاتجاهات الأصلية والفرعية.	نسبة ما بين الأبعاد على الطبيعة والأبعاد على الخريطة؛ وذلك من أجل تسهيل قراءة الخريطة.	رموز وألوان تشير إلى ما أدرج داخل الخريطة.	يقصد به موضوع الخريطة ونوعها.

نُظْم المعلومات الجغرافية

تطورت الخريطة لتصبح رقمية.

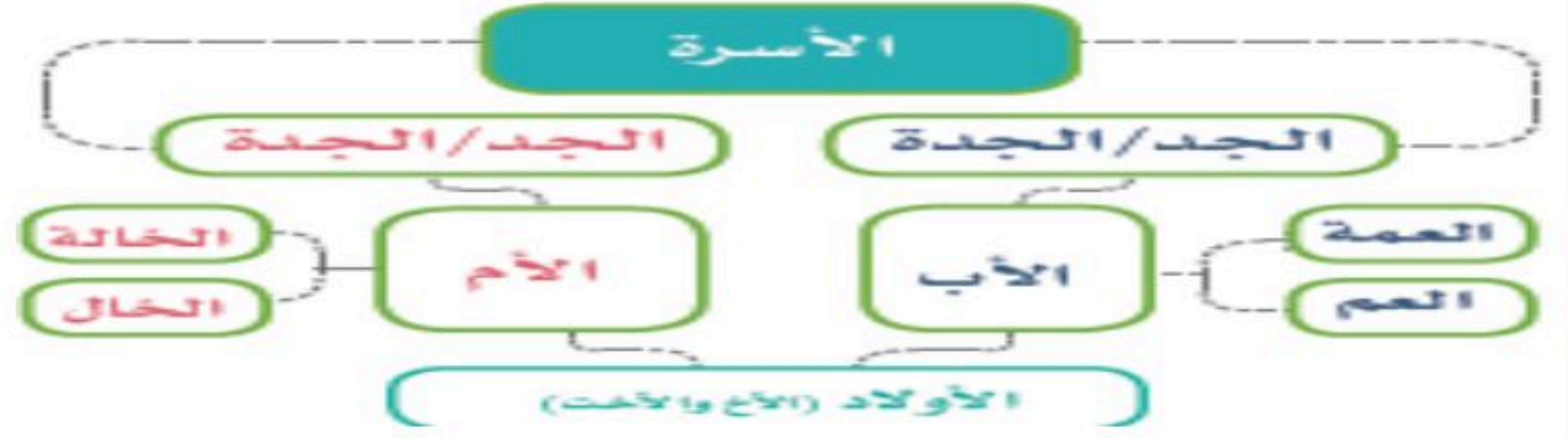
الخريطة الرقمية

هي خريطة إلكترونية، ويمكن الحصول عليها من التطبيقات الحاسوبية، مثل: جوجل إيرث



الأسرة والمجتمع

الأسرة أساس المجتمع، تتكون من أب وأم وأولاد. ويتكون المجتمع من عدة أسر. لكل فرد في الأسرة طموحات في المستقبل. كل فرد في الأسرة لديه صفات خاصة تميزه عن الآخرين. لكل فرد في الأسرة قدرات وإمكانات.



المدرسة تشبه الأسرة:
نعتني بالآخرين - نلعب معا - نتعلم معا - نتبع النظام - نقوم بالواجبات.
للأولاد حقوق على الوالدين فما هي؟



الحقوق والمسؤوليات

الفكرة الرئيسية

- **الحق:** ما يستحقه الفرد في حياته.
- **المسؤولية:** واجب أو عمل يلتزم الفرد أو المجتمع بتنفيذه.
- تكون مواطنين مسؤولين بالتقيد بالنظام، والشعور بالمسؤولية، وأداء الواجبات، والانتماء للوطن.

واجباتي في المدرسة

- أن أحضر مبكراً.
- أن أنجز واجباتي.
- أن أطبق النظام المدرسي.
- أن أحترم معلمي ومعلماتي.

حقوقي في المدرسة

- أن أتسلم الكتب الدراسية.
- أن تكون المدرسة مهياً ونظيفة.
- أن أحصل على تعليم مناسب.
- أن أتعلم وألعب بأمان.

المواطن الصالح

- التميز في العمل
- الالتزام بالنظام
- الحرص على الأمن
- الصدق والأمانة
- ينقيد بالنظام.
- يشعر بالمسؤولية.
- يؤدي الواجبات.
- ينتمي لوطنه ويحرص على أمنه.

من مسؤولياتي أن

- أستعمل الأجهزة الإلكترونية بمسؤولية.
- أعبر عن رأيي بهدوء ولطف.
- أحترم حقوق الآخرين ومعلوماتهم.
- أتجنب المواقع غير المناسبة لعمرى.
- لا أتواصل مع من لا أعرفهم.

فوائد الالتزام بالمسؤوليات

- ١ الإخلاص في العمل والثبات عليه.
- ٢ كسب ثقة الناس واختزابهم بلشخص المسؤول.
- ٣ المسؤولية تجعل للإنسان قيمة في المجتمع.

خلاصة الدرس

نعرف حقوقنا، ونؤدي واجباتنا، ونلتزم بالمسؤولية؛ لنكون مواطنين صالحين يخدمون الوطن والمجتمع.



العمل الجماعي

يكون **العمل جماعي بين اثنين أو أكثر**، وتوزع الأعمال بينهم بقيادة أحدهم، ويتعاونون في أدائها من أجل تحقيق الهدف الذي يقصدونه.

ماذا نستفيد من العمل الجماعي في حياتنا؟

نستطيع عندما نعمل معاً:
ننهى العمل سريعاً وبأفضل جودة.
نتغلب على الصعوبات، ونصل إلى الهدف المقصود.
نتعلم من بعضنا.
نعزز الثقة بأنفسنا.

حتى يكون العمل الجماعي ناجحاً

نُخلص
في العمل

يساعد بعضنا
بعضاً

نحترم
آراء الآخرين

نوزع
الأعمال

نخطط
للعمل

نتحمل
المسؤولية

نحدد
الهدف



الوحدة السابعة: شبه الجزيرة العربية

الدرس الخامس والعشرون: شبه الجزيرة العربية: الموقع والحضارة

الموقع

تقع شبه الجزيرة العربية في الجنوب الغربي من قارة آسيا، وتعد من أكبر أشباه الجُزر في العالم، حيث تبلغ مساحتها ثلاثة ملايين كيلو متر مربع.

ويحدها:

من الشمال العراق وبلاد الشام.
من الجنوب بحر العرب.
من الشرق الخليج العربي.
من الغرب البحر الأحمر

أهمية شبه الجزيرة العربية تاريخياً

١- مهبط الوحي:

في شبه الجزيرة العربية وُلد النبي محمد صلى الله عليه وسلم ونشأ وتربى على أخاق العرب الحميدة، مثل: الكرم، والشجاعة، والصدق، والوفاء بالعهد، ونزل عليه صلى الله عليه وسلم الوحي فيها، ومنها انطلق الإسام إلى أرجاء الأرض.

٢- رحلة الشتاء والصيف:

كانت قبيلة قُرَيْش في مكة المكرمة تقوم برحلتين تجاريتين:

الأولى: في الشتاء، بالاتجاه نحو اليمن.

والثانية: في الصيف، بالاتجاه نحو بلاد الشام..

مهد الحضارات

الحضارة هي نتاج ما حققته المجتمعات البشرية في المجالات الحضارية، مثل: المجالات الاقتصادية، والعمرانية، والعلمية، والثقافية.

وتعد شبه الجزيرة العربية موطن العرب منذ القدم، ومهد الحضارات، وحلقة وصل بين مصر والعراق، وهما موقعان لأهم الحضارات العالمية

من حضارات شبه الجزيرة العربية

◀ عاد

◀ ثمود

◀ مدين

نشوء اللغة العربية

في وطني المملكة العربية السعودية نشأت اللغة العربية، وكتب أجدادنا منذ آلاف السنين كثيراً من تاريخهم على الجبال بالنقوش والرسوم الصخرية.

الدرس السادس والعشرون: شبه الجزيرة العربية: السُّكَّان وأحوالهم

السُّكَّان

سكن العرب أرض شبه الجزيرة العربية منذ آلاف السنين، وينقسمون إلى قسمين:

العرب البائدة:

وهم عرب قدامى انقرضوا ولم يبقَ منهم أحد، مثل ل : عاد، و ثمود، و ظنم، و جدیس.

العرب الباقية:

وهم عرب ينتسبون إلى قحطان ، وعدنان.



الحياة الدينية

- 1- الحنيفية: وهي ملة إبراهيم (□ توحيد الله عز وجل).
- 2- عبادة الأوثان والأصنام.
- 3- عبادة النجوم والكواكب.
- 4- اليهودية والنصرانية: اعتنقت اليهودية والنصرانية في بعض مناطق شبه الجزيرة العربية قبل الإسلام.

الحياة السياسية

لم يكن في شبه الجزيرة العربية قبل الإسلام وحدة سياسية، وكان النظام القبلي وتعدّد الإمارات المحلية هو السائد في الحكم، وقامت النزاعات والحروب بين القبائل وسكان المدن؛ وهو ما أدى إلى فقدان الاستقرار.

الحياة الاجتماعية

اتّسم العرب بالقيم الأخلاقية الحميدة، مثل: الشجاعة والكرم والوفاء بالعهد وحماية الجار، وحظيت المرأة بمكانة عالية في المجتمع العربي، فقد كانت خديجة بنت خويلد سيدة في قومها تُسير قوافلها التجارية من مكة إلى الشام واليمن.

وانتشرت بين بعض القبائل قبل الإسلام عادات سيئة، مثل: لعب الميسر (القمار)، والأخذ بالنّثر

الحياة الاقتصادية

أ- التجارة: كانت مكة المكرمة ملتقى طرق القوافل من أنحاء شبه الجزيرة العربية؛ وهو ما جعل أهلها يعملون بالتجارة، ومن أبرز رحلاتهم التجارية: رحلة الشتاء والصيف.

كما كانت البضائع تأتي من الصين، وتمر بأرض بادي منذ أكثر من ألفي (٢٠٠٠) سنة، وتصل إلى أوروبا من طريق الحرير. واستطاع أجدادي العرب في شبه الجزيرة العربية - بحسن أخلاقهم وتعاملهم وصدقهم- نشر الإسلام والحضارة في الصين وآسيا عبر التجارة.

ب- الزراعة: زرع العرب الفاكهة، والنخيل، والخبّوب، في يثرب (المدينة المنورة) والطائف واليمامة، وجنوب شبه الجزيرة العربية.

ج- الرعي: اهتم العرب بتربية الحيوانات، مثل: الأغنام والإبل والخيول والأبقار

الدرس السابع والعشرون: قبلة المسلمين

مكة المكرمة

اختار الله عز وجل أرض وطني (المملكة العربية السعودية) في شبه الجزيرة العربية؛ ليكون فيها بيت الله الكعبة المشرفة الذي تهوي إليه قلوب المسلمين من كل مكان. ويتجه إليها اليوم أكثر من مليار مسلم في صلواتهم، ويزورها الملايين سنوياً لأداء الحج والعمرة في المسجد الحرام والمشاعر المقدسة.

المدينة المنورة

هاجر إليها خاتم الأنبياء النبي محمد صلى الله عليه وسلم ونشر الإسلام فيها، وتشرفت المدينة المنورة في وطني بالمسجد النبوي، وفيها قبر النبي محمد صلى الله عليه وسلم، وعلى أرضها كانت سيرته صلى الله عليه وسلم، وسيرة خلفائه الراشدين.

قبلة المسلمين

كانت قبلة المسلمين باتجاه بيت المقدس (المسجد الأقصى) بأرض فلسطين، حتى أمر الله عز وجل النبي محمداً صلى الله عليه وسلم باتخاذ الكعبة المشرفة في المسجد الحرام قبلة له صلى الله عليه وسلم وللمسلمين.

مسجد القبلتين

في وطني المملكة العربية السعودية مسجد القبلتين في المدينة المنورة الذي تحوّل فيه المسلمون إلى استقبال الكعبة المشرفة في أثناء الصلاة بعد نزول الأمر من الله عز وجل على النبي محمد صلى الله عليه وسلم، وهو من المساجد المهمة في التاريخ.



الدرس الثامن والعشرون: الآثار

الآثار

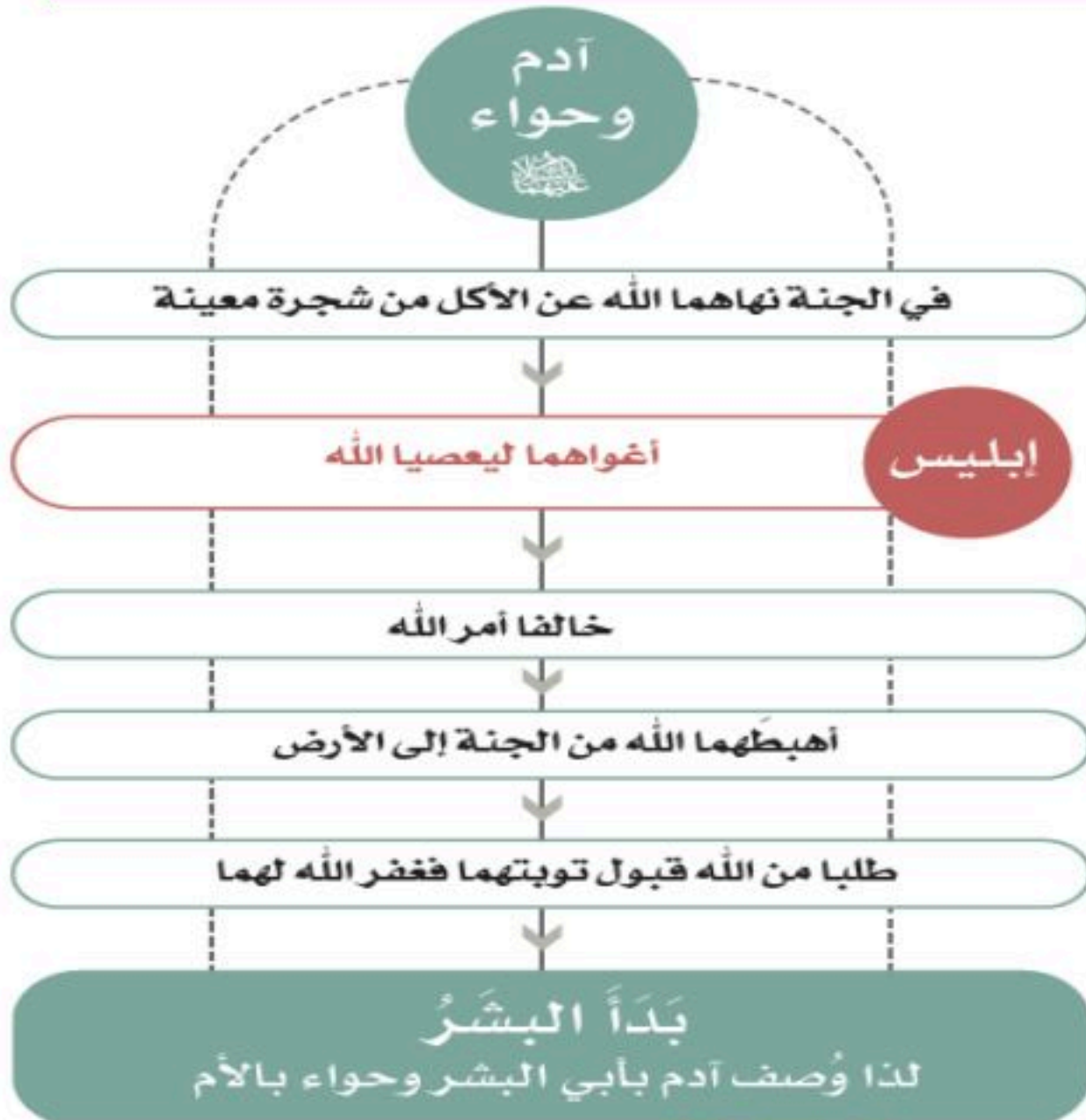
- هي شواهد على التاريخ، والبحث عنها ومعرفتها تكون بالتنقيب والاكتشاف من قِبَل الجهات المختصة. من آثار وطني التي تعود في تاريخها إلى آلاف السنين:
- ◀ **مدائن صالح** في **العلا** التي سكنها قوم ثمود قبل خمسة آلاف سنة من اليوم.
 - ◀ **ديلمون** على ساحل الخليج العربي، ومكانها القطيف في المنطقة الشرقية.
 - ◀ **بنر جمى** في **نجران**، يعود زمنها إلى تسعة آلاف سنة.
 - ◀ **الفاو** عاصمة مملكة كِنْدَة منذ أكثر من ألفين وخمسمئة سنة في منطقة **الرياض** بالقرب من وادي الدواسر.
 - ◀ **أعمدة الرجاجيل** في **سكاكا بالجوف**، يعود زمنها إلى أكثر من ستة آلاف سنة.

كما يوجد أيضا:

في وطني متاحف تضم أبرز القطع الأثرية وصوراً لمعالم تاريخية وثقافية من وطني. كما تقام بين حين وآخر معارض تبرز العناية الكبيرة فيما يقدمه وطني من أعمال وإنجازات.

الوحدة الثامنة: الأنبياء

الدرس التاسع والعشرون: آدم ونوح عليهم السلام



آدم عليه السلام أبو البشر

أول نبى من أنبياء الله تعالى النبي آدم عليه السلام، خلقه الله عز وجل بيديه من طين، فإن جميع البشر بمختلف ألوانهم وأشكالهم هم من ذرية آدم.

نوح عليه السلام أبو البشر الثاني

بعد وفاة نبي الله آدم انحرف الناس عن عبادة الله إلى عبادة الأصنام، فبعث الله النبي نوحاً وأخذ يدعو إلى توحيد الله في قومه 950 عاماً، ولم يستجب له إلا عدد قليل.

سفينة نوح:

تعد سفينة نوح معجزة، لأن الله سبحانه وتعالى أمر نوحاً ببناء السفينة وقومه يعيشون في أرض لا بحر فيها؛ لتكون دلياً على قدرة الله وعظمته، ووجوب التوحيد والإيمان، والطاعة المطلقة لله.



الدرس الحادي عشر: أولو العزم من الرسل

الرسول والأنبياء

أولو العزم من الرسل:

- ١ نوح ﷺ
- ٢ إبراهيم ﷺ
- ٣ موسى ﷺ
- ٤ عيسى ﷺ
- ٥ محمد ﷺ



أرسل الله الأنبياء والمرسلين من أجل:

- ◀ دعوة الناس إلى عبادة الله وحده.
- ◀ إرشاد الناس والرحمة بهم

إبراهيم

- ◀ يلقب بأبي الأنبياء.
- ◀ وُلد في مدينة بابل بالعراق.
- ◀ أخذ يدعو أباه وقومه لعبادة الله وحده وترك عبادة الأصنام، فاستجاب له عدد قليل، وغضب قومه منه بسبب تكسيره الأصنام؛ وألقوه في نار كبيرة، إلا أن الله أنجاه ولم تحرقه، وهي معجزة من الله عز وجل له.
- ◀ أمر الله إبراهيم بالانتقال من فلسطين إلى مكة المكرمة برفقة زوجته هاجر وابنه إسماعيل، ولم يكن فيها ماء ولا عشب، وأن يتركهما هناك لتحدث معجزة ماء زمزم، حيث هرولت هاجر بين الصفا والمروة بحثاً عن الماء، وكان إسماعيل يبكي من شدة العطش ويضرب بقدميه الأرض، فانفجرت عين زمزم تحتها بأمر الله.

بناء الكعبة

- ◀ أمر الله عز وجل إبراهيم أن يبني في مكة المكرمة أول بيت لعبادة الله، فبنى الكعبة مع ابنه إسماعيل، فلما ارتفع البنيان قام إبراهيم على حجر وهو مقام إبراهيم الذي قرب الكعبة.
- ◀ وقد دعا إبراهيم لمكة وما حولها

موسى بن عمران

- ◀ موسى بن عمران ويلقب بكليم الله.
- ◀ وُلد في مصر. عندما ولد موسى خافت أمه أن يقتله فرعون حاكم مصر؛ لأنه كان يقتل كل طفل يولد لبني إسرائيل، فألقته في النهر وهو رضيع بعد أن وضعت في تابوت لحمايته، فأخذه بعض الناس ونقلوه إلى زوجة فرعون التي قررت اتخاذه ولداً لها، بحثت زوجة فرعون عن مربية لموسى ولم يقبل سوى رضاعة أمه التي رده الله إليها.

معجزة موسى

- عاش موسى طفولته في قصر فرعون، وعندما بلغ أسنده توجه إلى أرض مدين، وأقام بها ثماني سنين، وفي طريقه من مدين إلى مصر وفي طور سيناء خصه الله بالنبوة، حيث كلمه وأرسله لبني إسرائيل ولدعوة فرعون إلى توحيد الله، وأيده بالمعجزات.
- كذبه فرعون وأراد قتله؛ فاضطر موسى إلى الفرار من مصر ليلاً، فلحق به فرعون وجيشه، وعندما وصل موسى إلى البحر الأحمر أمره الله بأن يضرب بعصاه البحر، فأصبح البحر طرقاتاً سار عليها موسى وقومه حتى عبروا البحر، وكان فرعون وجنوده خلفهم، فلما اكتملوا في البحر عاد كما كان فغرقوا

عيسى بن مريم

- يُسَمَّى بالمسيح.
- ولد في مدينة بيت لحم بفلسطين.

معجزة ولادة عيسى

- يُنسَب لأمه مريم بنت عمران، حيث نفخ الله فيها من رُوحه فأنجبت عيسى من غير أب، عندما جاء الملك جبريل إلى مريم وهي تتعبد الله، حيث بشرها بأنها ستلد ابناً، وأنه سيكون رسولاً من رُسُل الله ونبياً من أنبيائه دون أن يكون له أب. وكان حملها معجزة من معجزات الله، فعندما حان موعد الولادة ذهبت مريم إلى مكان بعيد، ووضعت حملها عند جذع نخلة، وفجر الله من تحتها الماء حتى تشرب منه، وأمرها الله أن تهز جذع النخلة، فتساقط عليها الرطب

معجزات عيسى

- عندما كبر أیده الله تعالى بمعجزات عديدة، منها: إحياء الموتى، وشفاء الأبرص، وصنع أشكال طينية على هيئة طير، ثم ينفخ فيها فتكون طيراً حقيقياً، وغير ذلك، وكل هذه المعجزات كانت تحدث بإذن الله.
- في النهاية تأمر بعض قومه عليه، خشية أن يؤمن به الناس ويتبعوه بسبب صدقه ومعجزاته فحاولوا قتله، ولكن الله نجاه منهم، ورفع له إليه.
- أنزل الله تعالى التوراة على موسى، ثم أنزل الإنجيل على عيسى، ثم القرآن الكريم على خاتم الأنبياء والمرسلين محمد.



الوحدة التاسعة: السيرة النبوية

الدرس الحادي والثلاثون: نَسَبُ النبي محمد صلى الله عليه وسلم ونشأته

نَسَبُهُ صَلَّى اللَّهُ عَلَيْهِ وَسَلَّمَ

محمد بن عبدالله بن عبدالمطلب بن هاشم ابن عبد مناف. ويتصل نسبه بقریش ثم إلى عدنان ثم إلى إسماعيل بن إبراهيم. وأمه أمينة بنت وهب بن عبدمناف.

مولده صَلَّى اللَّهُ عَلَيْهِ وَسَلَّمَ

وُلِدَ النبي محمد صلى الله عليه وسلم في مكة المكرمة، في شهر ربيع الأول من عام الفيل (عام ٥٧١ ميادي)، وكان والده (عبدالله) قد توفي قبل ولادته.

نشأته صَلَّى اللَّهُ عَلَيْهِ وَسَلَّمَ

نشأ النبي محمد صلى الله عليه وسلم يتيماً مع أمه أمينة، التي أرضعته مدة قصيرة، ثم أرسلت به إلى مَرَضعة من أهل البادية تسمى حليلة السَّعْدِيَّة، التي كانت تسكن في نواحي الطائف، وبقي عندها في البادية حتى بلغ سن الرابعة.

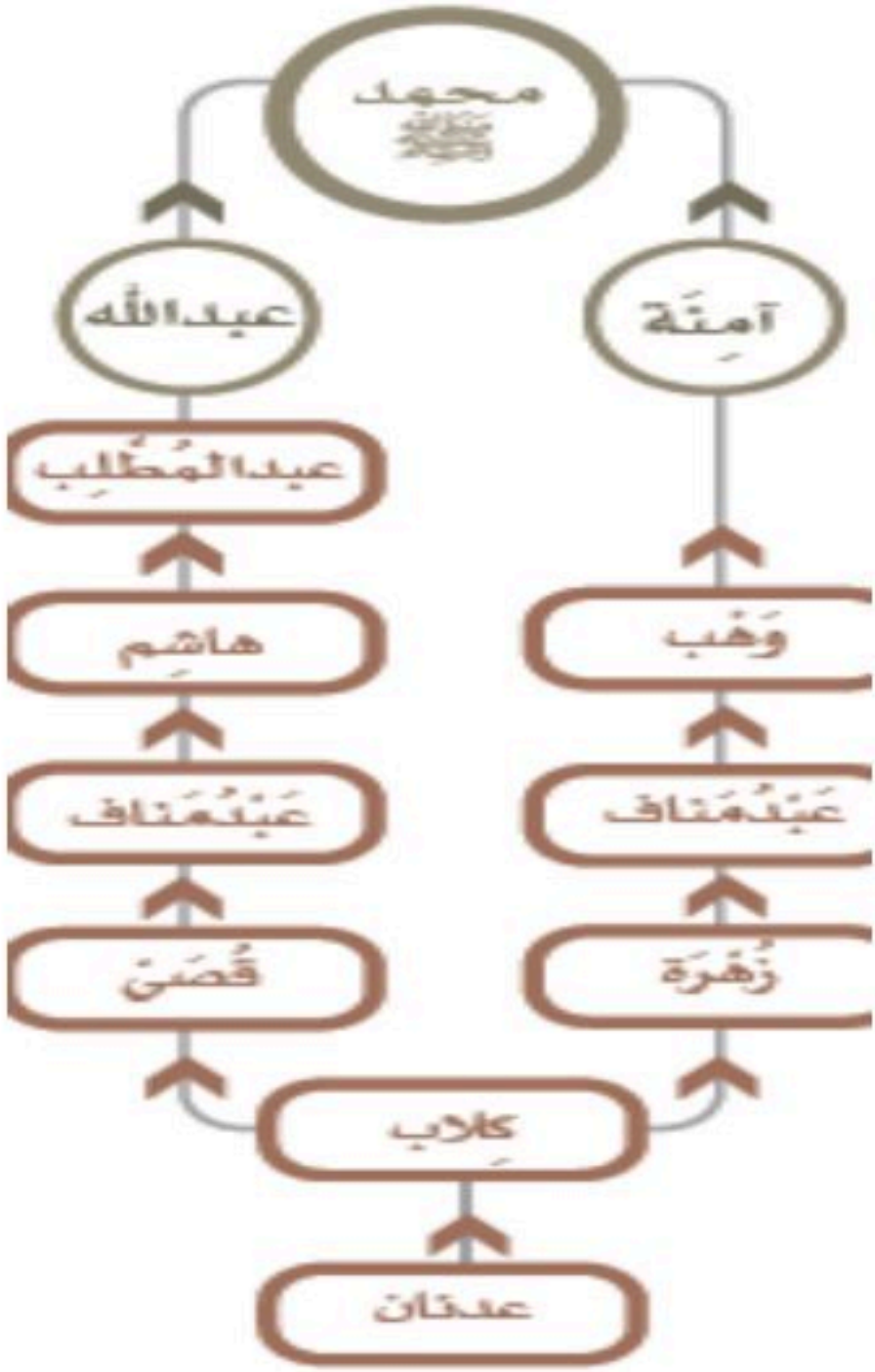
عندما بلغ السادسة من عمره توفيت أمه، فعاش عند جده عبدالمطلب واعتنى به، وعندما بلغ الثامنة من عمره مات جده، فانتقل إلى عمه أبي طالب، وكان عمه فقيراً كثيراً كثير العيال، فعمل النبي محمد صلى الله عليه وسلم وهو صغير برعي الغنم؛ ليساعد عمه، وفي شبابه صحب عمه أبا طالب في إحدى رحلاته التجارية إلى بلاد الشام.

صفاته صَلَّى اللَّهُ عَلَيْهِ وَسَلَّمَ

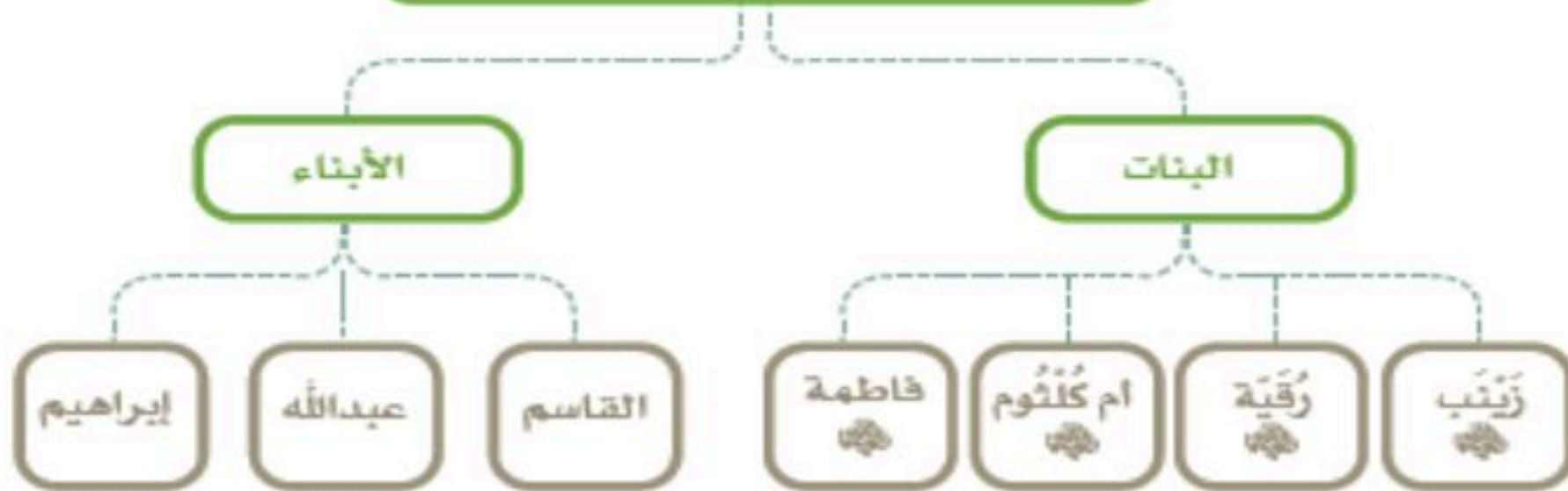
اشتهر النبي محمد صلى الله عليه وسلم بحسن أخلاقه كالصدق والأمانة، فلُقِّبَ قومه بالصادق الأمين؛ ولهذا طلبت خديجة بنت خويلد أن يعمل في تجارتها، فسافر إلى الشام، وحقق أرباحاً لها. وعُرفت هذه الرحلات التجارية في شبه الجزيرة العربية بـ (رحلة الشتاء والصيف) لقبيلة قريش في مكة المكرمة.

زواجه من خديجة رضي الله عنها

عندما علمت خديجة بنت خويلد عن أمانة النبي محمد صلى الله عليه وسلم، وحسن أخلاقه، أُعجبت به وبأخلاقه، فرغبت بالزواج منه، فخطبها له أعمامه فتزوجها، وكان عمر النبي محمد صلى الله عليه وسلم حينذاك خمساً وعشرين سنة.



أسرة النبي محمد ﷺ



الدرس الثاني والثلاثون: بعثة النبي محمد صلى الله عليه وسلم

نشأ النبي محمد صلى الله عليه وسلم سليماً الفطرة، راجح العقل، وقد عصمه الله من أعمال الجاهلية، فكان ينفر من عبادة الأصنام التي اعتادها قومه، ويخلو بنفسه كثيراً في غار حراء بجبل النور بمكة المكرمة؛ من أجل العبادة والتفكير في مشاهد الكون العظيم.

بدء نزول الوحي

نزلت عليه صلى الله عليه وسلم أولى آيات القرآن الكريم في غار حراء، وكان عمره أربعين سنة.

دعوته إلى الإسلام

أمر الله سبحانه وتعالى النبي محمداً صلى الله عليه وسلم بدعوة الناس إلى دين الإسلام ودعا النبي صلى الله عليه وسلم إلى الإسام أقرب الناس له من أهل بيته وأصحابه، وكان من السابقين للإسام في أول يوم من الدعوة زوجة النبي صلى الله عليه وسلم أم المؤمنين خديجة بنت خويلد، وابن عمه علي بن أبي طالب، وصاحبه أبو بكر الصديق، ومولاه زيد بن حارثة.

الهجرة إلى الحبشة

لنشر الإسام في مكة المكرمة، أدته قريش وأدت أصحابه، فأمر النبي صلى الله عليه وسلم أصحابه بالهجرة إلى الحبشة؛ لأن فيها ملكاً لا يظلم عنده أحد، وكانت هجرتهم أول هجرة في الإسلام، وكان من بينهم: عثمان بن عفان وزوجته رقية بنت محمد صلى الله عليه وسلم.

معجزة الإسراء والمعراج

بعد مضي عشر سنوات من بعثة النبي صلى الله عليه وسلم في مكة يدعو الناس إلى توحيد الله وترك الشرك، وقبل الهجرة إلى المدينة، حدثت معجزة الإسراء والمعراج لينصره الله؛ حيث أسري به من مكة المكرمة على البراق إلى بيت المقدس، ثم عرج به إلى السماء حيث سدره المنتهى.

من معجزاته ﷺ

المعراج

الصعود والارتقاء، وهي رحلة النبي ﷺ من المسجد الأقصى في بيت المقدس إلى السماء.

الإسراء

السير ليلاً، وهي رحلة النبي ﷺ ليلاً من مكة المكرمة إلى المسجد الأقصى في بيت المقدس بفلسطين.

الدرس الثالث والثلاثون: الهجرة إلى المدينة المنورة

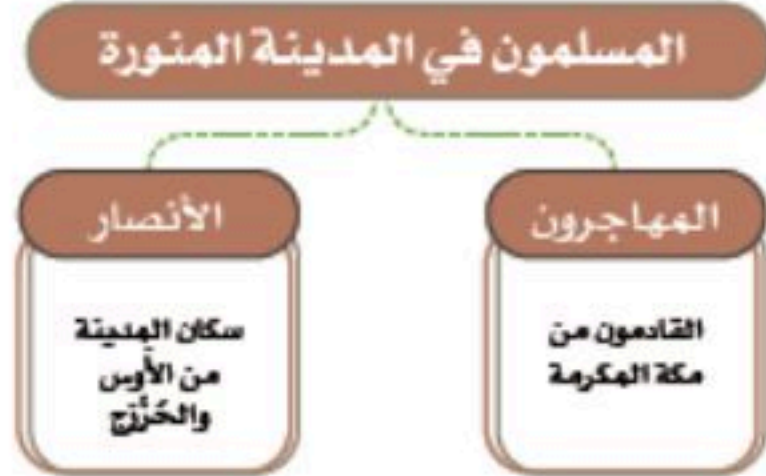
هاجر النبي محمد صلى الله عليه وسلم عندما اشتد أذى المشركين له ومنع من نشر الإسام في مكة. وعندما قدم إلى المدينة المنورة كان اسمها يثرب فغيره إلى المدينة، وعاش فيها حتى توفي في شهر ربيع الأول سنة ١١ هـ. واليوم يزور المسلمون المدينة المنورة في المملكة العربية السعودية؛ للصلاة في المسجد النبوي الشريف، ويسن لمن زار المسجد النبوي السلام على النبي محمد صلى الله عليه وسلم.



عندما وصل النبي محمد صلى الله عليه وسلم إلى يثرب (المدينة المنورة) استقبله المسلمون فيها وأنشدوا فرحين ومرحبين بقدمه صلى الله عليه وسلم: طلع البدر علينا من ثنيت الوداع وجب الشكر علينا ما دعا الله داع وقال صلى الله عليه وسلم: «اللهم حبب إلينا المدينة كحبنا مكة أو أشد»، وهذا يدل على حب الأوطان. واليوم بفضل الله ثم بجهود المؤسس الملك عبدالعزيز بن عبدالرحمن الفيصل آل سعود ورجاله الأوفياء اتسع وطننا، فشمّل مع مكة المكرمة والمدينة المنورة مناطق نحبها ونفخر بها.

الدولة في عهد النبي محمد صلى الله عليه وسلم

عندما وصل النبي محمد صلى الله عليه وسلم إلى المدينة المنورة قام بعدد من الأعمال التي تؤسس للدولة، ومنها:



- ١- بناء المسجد النبوي.
- ٢- الأمر بالطاعة لولي الأمر.
- ٣- المواخاة بين المهاجرين والأنصار.
- ٤- كتابة وثيقة المدينة.

بناء المسجد النبوي:

أول عمل قام به نبي الله محمد صلى الله عليه وسلم بعد وصوله إلى المدينة المنورة هو بناء المسجد النبوي، وقد بناه بنفسه، وساعده أصحابه، ليصبح هو الحرم الشريف الثاني بعد المسجد الحرام في مكة المكرمة

وثيقة المدينة

- نشر النبي محمد صلى الله عليه وسلم الأمن والسام في مجتمع المدينة؛ لتأسيس الدولة، ومن أعماله صلى الله عليه وسلم أنه كتب وثيقة تنظم العلاقة بين سكان المدينة المنورة، ومن يستقر فيها.
- جاء في وثيقة المدينة مبادئ الدولة التي تعطي الجميع من المسلمين واليهود الذين كانوا يعيشون في المدينة حقوقهم وتوضح واجباتهم.
- تضمنت وثيقة المدينة إقرار الحرية في الدين والمال لغير المسلمين في المدينة المنورة مقابل أن يلتزموا المواطنة الصالحة ولا يخونوا المسلمين أو يتعرضوا لهم

الدرس الرابع والثلاثون: غزوات النبي محمد صلى الله عليه وسلم

غزوة بدر الكبرى (سنة ٢ هـ)

حدثت في منطقة بئر بدر جنوب غرب المدينة المنورة.

السبب:

إرادة المسلمين استعادة ما استولى عليه مشركو قريش من أموال المسلمين الذين هاجروا من مكة المكرمة إلى المدينة المنورة.

النتيجة:

- انتصار المسلمين بعد أن استشهد أربعة عشر صحابياً، وقتل سبعون من المشركين، وجرح سبعون.
- ولهذا فإن غزوة بدر الكبرى من أهم الغزوات في تاريخ المسلمين.

غزوة أحد (سنة ٣ هـ)

السبب:

إرادة قريش الثأر بعد هزيمة رجالها في غزوة بدر، فجهزوا جيشاً لقتال المسلمين، واتجهوا به نحو المدينة المنورة، والتقوا بالمسلمين عند جبل أحد.

النتيجة:

التفاف مجموعة من جيش قريش بقيادة خالد بن الوليد - قبل إسلامه - على المسلمين من الخلف، ومهاجمتهم المسلمين، وإصابة النبي محمد صلى الله عليه وسلم بجروح، واستشهاد عدد من المسلمين، وكان من بين الشهداء حمزة بن عبدالمطلب.

ومن أسباب ذلك مخالفة الرماة أمر النبي محمد صلى الله عليه وسلم بالبقاء في أماكنهم في أعلى جبل الرماة، حتى يأذن لهم بالنزول، فعندما رأوا انهزام جيش قريش نزلوا إلى أرض المعركة لجمع الغنائم ظناً منهم أن المعركة قد انتهت.

غزوة الأحزاب - الخندق - (سنة ٥هـ)

- اجتمع المشركون من قريش وغيرها من القبائل العربية؛ لمواجهة المسلمين في المدينة المنورة والقضاء عليهم، وسُمي هؤلاء بالأحزاب؛ لتجمعهم على هدف واحد ضد المسلمين.
- زحفت قوات المشركين إلى المدينة المنورة، ولما علم النبي محمد صلى الله عليه وسلم بذلك استشار المسلمين هل يبقون في المدينة أو يخرجون لملاقاة جيوش المشركين؟ فكان من رأي سلمان الفارسي أن يبقى المسلمون في المدينة، وأن يحفر خندقاً لحمايتهم، فأخذ النبي محمد صلى الله عليه وسلم برأيه، وحفر المسلمون ومعهم النبي محمد صلى الله عليه وسلم خندقاً في الجهة الشمالية من المدينة المنورة.
- توقف الأحزاب المشركون عند الخندق، وحاصروا المدينة شهراً كاملاً، ولم يتمكنوا من دخولها، ثم هيا الله الفرَج والنصر للمسلمين، بأن أرسل الله ريحاً باردة في ليلة مظلمة، قذبت قدورهم، واقتلعت خيامهم، وأطفأت نيرانهم، فتفرق بذلك المشركون الأحزاب وانتصر المسلمون، وسُميت أيضاً بغزوة الخندق.

صلح الحديبية (سنة ٦هـ)

خرج النبي محمد صلى الله عليه وسلم ومعه ١٤٠٠ من المسلمين قاصدين مكة المكرمة لأداء العمرة، لكن قريشاً طلبت تأجيل دخول المسلمين مكة المكرمة إلى العام المقبل، وعقد صلح بين الطرفين في الحديبية.

فتح مكة (سنة ٨هـ)

- عاد المسلمون إلى المدينة المنورة وهم متشوقون لأداء الحج والعمرة، ونزلت سورة الفتح ببشارة دخول مكة المكرمة
- لم تلتزم قريش شروط صلح الحديبية ونقضوه؛ فسارع النبي محمد صلى الله عليه وسلم بتجهيز جيش كبير سار به نحو مكة المكرمة، ولما علمت قريش بكثرة جيش المسلمين وقوته أعلنت استسلامها، وبذلك تمكن النبي محمد صلى الله عليه وسلم من دخول مكة المكرمة وفتحها دون حرب.
- وبعد الفتح طاف حول الكعبة، وأمر بلال بن رباح أن يؤذن في المسجد الحرام، ثم انتشر الإسام ودخل الناس في دين الله أفواجا.






مراجعة الدراسات الاجتماعية



للفف الرابع الابتدائي



الجزء الثاني من المقرر



مراجعاتي

www.mrajati.net



السؤال الأول: اختر الإجابة الصحيحة فيما يلي :

١	الفصول الأربعة	تعاقب الليل والنهار	المد والجزر	كسوف الشمس	ما الظاهرة الطبيعية التي تحدث بسبب دوران الأرض حول محورها؟
٢	جعل النهار أطول دائماً	السماح بنمو أنواع مختلفة من المحاصيل الزراعية	تثبيت درجة حرارة الأرض	إيقاف حركة الرياح	ما هي الفائدة الرئيسية من تنوع الفصول الأربعة؟
٣	صورة فوتوغرافية	الخريطة	مجسم	لوحة فنية	الرسم التوضيحي لسطح الأرض أو لجزء منه يسمى
٤	مؤشر الاتجاه	مقياس الرسم	العنوان	المفتاح	العنصر الذي يساعدنا في معرفة الاتجاهات على الخريطة هو
٥	قاع البحر	قمة جبل عالٍ جداً أو في الفضاء	داخل كهف	في صحراء واسعة	لمشاهدة شكل الأرض الكروي بوضوح، يجب أن نكون في
٦	مربع	مسطح	هرمي	كروي	ماذا يطلق على شكل الأرض؟
٧	الجبل	السهل	الصحراء	الهضبة	أرض واسعة ومنبسطة، وتعتبر من أكثر المناطق التي يتركز فيها السكان، هي
٨	لأن الأرض مسطحة وليست كروية	لأن الأرض صغيرة جداً	لأن الأرض كبيرة وضخمة جداً	لأن الجبال تغطي الرؤية	لماذا لا نرى كروية الأرض ونحن نمشي عليها؟
٩	الهلال	المحاق	البدر	التربيع الأول	في منتصف الشهر القمري، يكون القمر في طور
١٠	ثابتة لا تتغير	صعبة الاستخدام	قابلة للتحديث بسهولة	لا تحتاج إلى جهاز	من أهم مميزات الخريطة الرقمية أنها
١١	الجبل	الوادي	السهل	الجزيرة	ما هو الشكل التضاريسي الذي يُعرف بأنه كتلة صخرية مرتفعة ولها قمة؟
١٢	ما هي القوة التي تجعل التفاحة تسقط من الشجرة إلى الأسفل؟				



قوة الرياح	قوة الجاذبية	قوة الماء	قوة الشمس
لمعرفة معنى الألوان والرموز على الخريطة، فإننا نستخدم			
العنوان	الإطار	مقياس الرسم	مفتاح الخريطة
تُسمى الأرض اليابسة التي يحيط بها الماء من ثلاث جهات فقط			
قارة	جزيرة	واحة	شبه جزيرة
عندما تقع الأرض بين الشمس والقمر، ماذا تسمى هذه الظاهرة؟			
كسوف الشمس	خسوف القمر	طور البدر	طور المحاق
الفصول الأربعة (الشتاء، الربيع، الصيف، الخريف) هي نتيجة مباشرة لـ			
دوران القمر حول الأرض	دوران الأرض حول نفسها	بعد الأرض عن الشمس فقط	دوران الأرض حول الشمس
ما اسم أول شهر في السنة الهجرية؟			
رمضان	ذو الحجة	صفر	المحرم
كم عدد الأشهر في السنة القمرية (الهجرية)؟			
أشهر ١٠	شهرًا ١١	شهرًا ١٢	شهرًا ١٣
إذا كانت الأرض ثابتة لا تدور، فماذا سيحدث؟			
سيكون الجو معتدلاً دائماً	لن يكون هناك فصول مناخية متنوعة	سيكون هناك ليل ونهار بشكل أسرع	ستختفي الجاذبية الأرضية
ما هو مصدر الضوء الذي نراه من القمر؟			
ضوء يصدره القمر بنفسه	ضوء النجوم	انعكاس ضوء الشمس	انعكاس ضوء الأرض
كم من الوقت تحتاج الأرض لإكمال دورة كاملة حول الشمس؟			
ساعة ٢٤	يوماً ٣٠	يوماً و ٦ ٣٦٥ ساعات	ساعة ١٢
ما هو ترتيب كوكب الأرض من حيث البعد عن الشمس؟			
الكوكب الأول	الكوكب الثاني	الكوكب الثالث	الكوكب الرابع
ما هو العنصر الذي يوضح موضوع الخريطة ونوعها؟			
مفتاح الخريطة	مقياس الرسم	عنوان الخريطة	الإطار
في أي من المناطق التالية يزداد تركيز السكان عادةً؟			
قمم الجبال العالية	أعماق الصحاري	بالقرب من الأودية ومنابع المياه	المناطق القطبية المتجمدة



ما هي النسبة التي تشكلها اليابسة من سطح كوكب الأرض؟				٢٥
١٠٪	٢٩٪	٥٠٪	٧١٪	
السؤال الثاني :				
ضع علامة صح (✓) او علامة خطأ (×) امام العبارات التالية :				
×	١	الخرائط اختراع حديث ظهر مع ظهور أجهزة الحاسوب		
✓	٢	الخريطة الرقمية هي خريطة إلكترونية يمكن الحصول عليها من التطبيقات الحاسوبية		
×	٣	نرى القمر بأوجه مختلفة بسبب دورانه حول الشمس		
✓	٤	اليابسة والماء هما القسمان الرئيسيان اللذان يتكون منهما سطح الأرض		
×	٥	تتجه جميع الأشياء نحو الأعلى عند سقوطها بسبب الجاذبية		
×	٦	الأرض هي الكوكب الوحيد في المجموعة الشمسية		
×	٧	مقياس الرسم ليس عنصراً ضرورياً في الخريطة		
✓	٨	إذا توقفت الأرض عن الدوران حول الشمس، سيستمر تعاقب الليل والنهار		
×	٩	السنة الهجرية تبدأ بشهر رمضان وتنتهي بشهر شعبان		
×	١٠	ينتج تعاقب الفصول الأربعة عن دوران الأرض حول محورها		
✓	١١	خسوف القمر يعني أن ظل الأرض يقع على القمر		
×	١٢	القمر هو كوكب يضيء بنفسه		
✓	١٣	تسمى الأرض بـ "الكرة الأرضية" لأن شكلها يشبه الكرة		
✓	١٤	تساعدنا الخريطة على تحديد مواقع المدن والمسافات بينها		
✓	١٥	٧١٪ يغطي الماء معظم سطح كوكب الأرض بنسبة تصل إلى ٧١		
×	١٦	يعيش الناس بأعداد كبيرة في الصحاري لسهولة الحياة وتوفر الموارد فيها		
✓	١٧	تنوع الفصول يسمح بتنوع المحاصيل الزراعية والأنشطة البشرية		
✓	١٨	يحدث كسوف الشمس عندما يحجب القمر ضوء الشمس عن الأرض		
✓	١٩	يمكن للشمس أن تضيء الكرة الأرضية كلها في نفس الوقت		
✓	٢٠	الإطار هو الخط الذي يحيط بمحتويات الخريطة		
✓	٢١	الجاذبية هي التي تمنعنا من الطيران في الفضاء		
×	٢٢	يمكننا رؤية شكل الأرض الكروي بسهولة من نافذة بيتنا		



✓	تعتبر السهول والأودية من المناطق التي يفضلها السكان للعيش والاستقرار.	٢٣
✓	تستغرق الأرض في دورانها حول نفسها مدة ٢٤ ساعة.	٢٤
✗	الواحة هي منطقة جافة جداً لا يوجد بها أي نبات أو ماء.	٢٥



الوحدة ٦		أ / فيصل الحربي	
السؤال الأول: اختر الإجابة الصحيحة فيما يلي :			
...يعتبر تسلم الكتب الدراسية في بداية العام من			
١	مسؤوليات الطالب	حقوق الطالب	واجبات ولي الأمر
قوانين الفصل			
...العمل بجد وإنجاز الواجبات المدرسية يصنف على أنه من			
٢	الحقوق فقط	الحقوق والمسؤوليات	المسؤوليات فقط
ليست حقاً ولا مسؤولية			
أي من التالي يعد من أهم فوائد العمل الجماعي؟			
٣	أن يعمل شخص واحد فقط	إنجاز العمل بسرعة وجودة أفضل	صعوبة تحقيق الهدف
زيادة الوقت اللازم للعمل			
:من حقوق الوالدين على أبنائهم			
٤	توفير الألعاب لهم	الاحترام والطاعة	الذهاب بهم في رحلات
شراء ملابس جديدة			
أي من الآتي يعد مثلاً على تحمل المسؤولية في المدرسة؟			
٥	اللعب مع الأصدقاء في الفسحة	تناول وجبة الإفطار	رمي النفايات في سلتها المخصصة
الحصول على درجات عالية			
أي من التصرفات التالية يدل على احترام قوانين المدرسة؟			
٦	الكتابة على الطاولات	الجري في الممرات	رفع اليد للمشاركة في الفصل
رمي النفايات في الساحة			
ما هو أساس المجتمع الذي يتكون من عدة أسر؟			
٧	المدرسة	الأسرة	الحي
المدينة			
:المحافظة على نظافة الفصل وسلامة المقاعد هي مسؤولية			
٨	المدير فقط	عامل النظافة فقط	المعلم فقط
جميع الطلاب والمعلمين			
:العمل الجماعي يُعرف بأنه عمل يقوم به			
٩	شخص واحد بمفرده	شخصان أو أكثر معاً	الحيوانات فقط
الآلات فقط			
...عندما يكون لكل فرد في الأسرة صفات مختلفة، فإن هذا الأمر			
١٠	يسبب مشاكل	يجعل الأسرة أقوى وأكثر تكاملاً	يجعل الجميع متشابهين
ليس له أي تأثير			

ما هي الخطوة الأولى والأساسية لنجاح أي عمل جماعي؟			
البدء في العمل فوراً	تحديد الهدف بوضوح	الانتظار حتى يقرر شخص واحد	شراء أدوات جديدة
...الحصول على عناية صحية عند الشعور بالمرض هو من			
الحقوق	الواجبات	المسؤوليات	الأهداف
:عندما يقوم كل فرد في الفريق بالدور المطلوب منه، فهذا يسمى			
تجاهل العمل	العمل الفردي	تحمل المسؤولية	التنافس السلبي
:الاستماع لأفكار الزملاء في الفريق وتقديرها يؤدي إلى			
فشل العمل الجماعي	تأخير إنجاز العمل	نتائج أفضل وتعاون أكبر	حدوث خلافات
...المواطن الذي يتقيد بالنظام ويشعر بالمسؤولية ويؤدي واجباته يسمى			
المواطن الذكي	المواطن الصالح	المواطن النشيط	المواطن المتعلم

السؤال الثاني :

ضع علامة صح (✓) او علامة خطأ (x) امام العبارات التالية :

✓	احترام الآخرين وطاعة ولي الأمر تعتبر من المسؤوليات الهامة	١
✓	العمل ضمن فريق يساعد على التغلب على الصعوبات التي قد تواجه الفرد بمفرده	٢
x	يجب على جميع أفراد الأسرة أن يكون لديهم نفس القدرات والمهارات	٣
✓	أسرتي لها دور كبير في تكوين شخصيتي	٤
x	المجتمع يتكون من أسرة واحدة فقط	٥
✓	يمكننا أن نتعلم مهارات جديدة من زملائنا عندما نعمل معاً في فريق	٦
x	في العمل الجماعي، من الأفضل أن يقوم شخص واحد بكل المهام لضمان الجودة	٧
✓	التعاون ومساعدة الزملاء في الفريق يعتبر من عوامل نجاح العمل الجماعي	٨
✓	اتباع النظام في المدرسة يساعد على التعلم بشكل أفضل	٩
x	لا توجد علاقة بين التمتع بالحقوق وأداء المسؤوليات	١٠
✓	من حقي كطالب أن أحافظ على ممتلكات المدرسة	١١
✓	الحصول على التعليم حق، بينما الحفاظ على نظافة المدرسة مسؤولية	١٢
x	لنجاح العمل الجماعي، لا يهم إذا كان الهدف واضحاً للفريق أم لا	١٣
x	الحق هو واجب أو عمل يلتزم الفرد بتنفيذه	١٤
✓	من صفات المواطن الصالح الحرص على أمن وطنه	١٥

السؤال الأول: اختر الإجابة الصحيحة فيما يلي :

١	الموقع الأثري "الحجر" يرتبط بقصة قوم	عاد	مدين	سبأ	ثمود
٢	مدينة "الفاو" الأثرية كانت عاصمة لمملكة قديمة، هي مملكة	الأنباط	كندة	دلمون	لحيان
٣	يقع الموقع الأثري "دلمون" في	القطيف	جدة	جازان	الدمام
٤	أين يقع قبر النبي محمد صلى الله عليه وسلم؟	في مكة المكرمة	في المدينة المنورة	في بيت المقدس	في الطائف
٥	ما هو البيت الذي بناه إبراهيم وإسماعيل عليهما السلام ليكون أول بيت يوضع للناس؟	المسجد الأقصى	المسجد النبوي	الكعبة المشرفة	مسجد القبلتين
٦	أين يقع الموقع الأثري "أعمدة الرجاجيل"؟	الرياض	نجران	سكاكا بالجوف	العلا
٧	...تقع شبه الجزيرة العربية في الجزء الجنوبي الغربي من قارة	إفريقيا	أوروبا	آسيا	أستراليا
٨	أي من الصفات التالية تعد من الأخلاق الحميدة التي اتسم بها العرب قبل الإسلام؟	الغدر	البخل	الكرم	الجبن
٩	...عاصمة مملكة كندة قديماً هي مدينة	الحجر	الفاو	دادان	مكة
١٠	...من الأسباب الرئيسية لأهمية شبه الجزيرة العربية الدينية أنها	طريق تجاري	أكبر شبه جزيرة	مهبط الوحي	غنية بالنفط
١١	إلى أين يتوجه المسلمون اليوم في صلاتهم؟	المسجد النبوي	المسجد الأقصى	مسجد قباء	الكعبة المشرفة
١٢	في أي مدينة يقع مسجد القبلتين الذي شهد تغيير القبلة؟	مكة المكرمة	المدينة المنورة	القدس	جدة
١٣	...الحضارة التي قامت في منطقة الحجر بالعلا هي حضارة	عاد	مدين	كندة	ثمود

ما هي أول قبلة اتجه إليها المسلمون في صلاتهم؟			
١٤	الكعبة المشرفة	المسجد النبوي	بيت المقدس (المسجد الأقصى)
ماذا يجب أن تفعل إذا عثرت على قطعة أثرية؟			
١٥	تحتفظ بها كتذكار	تبيعها لمن يهتم	تسلمها لأقرب مركز شرطة أو هيئة تراث
ما هو النظام السياسي الذي كان سائداً في شبه الجزيرة العربية قبل الإسلام؟			
١٦	النظام الملكي	النظام الإمبراطوري	النظام القبلي
...يحد شبه الجزيرة العربية من جهة الغرب			
١٧	الخليج العربي	البحر الأحمر	بحر العرب
أشهر رحلتين تجاريتين للعرب قبل الإسلام هما			
١٨	رحلة البر والبحر	رحلة الشرق والغرب	رحلة الشتاء والصيف
ما هي ديانة التوحيد التي كانت على ملة نبي الله إبراهيم عليه السلام؟			
١٩	اليهودية	النصرانية	عبادة الأصنام
ينتسب العرب الباقية إلى			
٢٠	عاد وثمود	قحطان وعدنان	طسم وجديس
السؤال الثاني :			
ضع علامة صح (✓) او علامة خطأ (x) امام العبارات التالية :			
١	العرب البائدة هم الأقوام الذين لا يزالون موجودين حتى اليوم	x	
٢	تساعدنا الآثار على معرفة كيف كان يعيش أجدادنا في الماضي	✓	
٣	يقع المسجد الحرام والمسجد النبوي في مدينة مكة المكرمة	x	
٤	كانت الزراعة هي النشاط الاقتصادي الرئيسي لجميع سكان شبه الجزيرة العربية	x	
٥	قبيلتا عاد وثمود من أمثلة العرب الباقية	x	
٦	كانت شبه الجزيرة العربية موحدة تحت حكم دولة واحدة قبل الإسلام	x	
٧	الكعبة المشرفة كانت دائماً هي قبلة المسلمين منذ بداية الإسلام	x	
٨	المحافظة على الآثار واجب وطني لأنها تمثل تاريخ أجدادنا وهويتنا	✓	
٩	يقع بيت المقدس (القبلة الأولى) في المملكة العربية السعودية	✓	
١٠	ساهمت أخلاق التجار العرب في نشر الإسلام والحضارة في آسيا	✓	



✓	كان لموقع شبه الجزيرة العربية دور مهم في كونها ملتقى للحضارات والتجارة.	١١
×	كل المواقع الأثرية في المملكة لها نفس العمر تقريباً.	١٢
×	يُسمح بالعبث بالمواقع الأثرية أو الكتابة عليها.	١٣
✓	المحافظة على الآثار تعتبر دليلاً على حب الوطن وتقدير تاريخه.	١٤
✓	حظيت المرأة بمكانة عالية في المجتمع العربي قبل الإسلام.	١٥
×	تقع جميع المواقع الأثرية المذكورة في الدرس في منطقة واحدة فقط من المملكة.	١٦
✓	سُمي مسجد القبلتين بهذا الاسم لأن المسلمين صلوا فيه باتجاه قبلتين في صلاة واحدة.	١٧
✓	الاعتزاز بالوطن يكون بمعرفة مكانته الدينية والتاريخية العظيمة.	١٨
✓	انطلق الإسلام من شبه الجزيرة العربية إلى جميع أنحاء الأرض.	١٩
×	تُعد شبه الجزيرة العربية أصغر شبه جزيرة في العالم.	٢٠

الوحدة ٨

أ / فيصل الحربي

السؤال الأول: اختر الإجابة الصحيحة فيما يلي :

ماذا كانت نتيجة تكبر إبليس ورفضه السجود لآدم عليه السلام؟			
١	أن أصبح من الملائكة	أن غفر الله له	أن طرده الله من رحمته
أي من الأنبياء التاليين يعد من أولي العزم من الرسل؟			
٢	يوسف عليه السلام	إبراهيم عليه السلام	داود عليه السلام
من هو النبي الذي يُلقب بـ (أبي البشر الثاني)؟			
٣	آدم عليه السلام	إبراهيم عليه السلام	نوح عليه السلام
إحياء الموتى بإذن الله كانت إحدى معجزات النبي:			
٤	موسى عليه السلام	عيسى عليه السلام	نوح عليه السلام
بماذا يلقب نبي الله إبراهيم عليه السلام؟			
٥	كليم الله	روح الله	أبو الأنبياء
ما هو سبب نجات المؤمنين مع نوح عليه السلام من الطوفان؟			
٦	قوتهم الجسدية	إيمانهم بالله وطاعتهم لنبيهم	كثرة أموالهم
كم عدد السنوات التي قضاها نبي الله نوح عليه السلام في دعوة قومه؟			
٧	سنة ١٠٠٠	سنة ٥٠	سنة ٥٩٠
ما هو الكتاب السماوي الذي أنزل على نبي الله موسى عليه السلام؟			
٨	القرآن	الإنجيل	التوراة
جميع البشر الذين يعيشون على الأرض اليوم هم من ذرية:			
٩	الناجين في سفينة نوح عليه السلام	الملائكة الذين سجدوا لآدم	قوم عاد الذين كفروا
أين بنى نبي الله إبراهيم وابنه إسماعيل أول بيت لعبادة الله على الأرض؟			
١٠	في القدس	في مصر	في مكة
السؤال الثاني :			
ضع علامة صح (✓) او علامة خطأ (x) امام العبارات التالية :			
١	أولو العزم من الرسل تميزوا بالصبر الشديد وقوة التحمل في الدعوة إلى الله.	✓	



×	٢	أنزل الله كتاب الإنجيل على نبي الله موسى عليه السلام
×	٣	"لقب نبي الله موسى عليه السلام هو "المسيح"
✓	٤	أرسل الله الرسل والأنبياء لتعليم الناس عبادة الله وحده وهدايتهم
×	٥	كل أبناء نوح عليه السلام آمنوا به وركبوا معه في السفينة
×	٦	كان الطوفان عقاباً من الله للمؤمنين الذين اتبعوا نوحاً عليه السلام
✓	٧	طاعة أوامر الله تعالى سبب للنجاة والفلاح في الدنيا والآخرة
×	٨	خلق الله تعالى أول إنسان، وهو آدم عليه السلام، من نار
✓	٩	الكعبة المشرفة هي أول بيت وُضع لعبادة الله في الأرض
✓	١٠	الصبر على دعوة الناس إلى الخير من أهم القيم التي نتعلمها من الأنبياء



السؤال الأول: اختر الإجابة الصحيحة فيما يلي :

ما هو سبب هجرة بعض المسلمين إلى الحبشة في بداية الدعوة؟			
١	للتجارة	للسياحة	هرباً من أذى قريش وبحثاً عن الأمان
لنشر الدعوة هناك بأمر مباشر			
ما هو أول عمل قام به النبي صلى الله عليه وسلم عند وصوله إلى المدينة المنورة لتأسيس الدولة؟			
٢	بناء سوق كبير	حفر بئر ماء	بناء المسجد النبوي
توزيع الأراضي على أصحابه			
قول النبي صلى الله عليه وسلم "اللهم حبب إلينا المدينة كحبنا مكة أو أشد" يدل على:			
٣	حبه للطعام في المدينة	حبه الشديد لوطنه	حبه للسفر والترحال
عدم رغبته في العودة لمكة			
ما السبب الرئيسي الذي أدى إلى هزيمة المسلمين في غزوة أحد؟			
٤	قلة عدد جيش المسلمين	قوة جيش المشركين	مخالفة الرماة لأمر النبي ﷺ
وعورة أرض المعركة			
من هو الذي كفل النبي صلى الله عليه وسلم بعد وفاة جده عبد المطلب؟			
٥	عمه حمزة	عمه العباس	عمه أبو طالب
عمه أبو لهب			
ماذا يعني مصطلح "المواخاة" الذي قام به النبي صلى الله عليه وسلم في المدينة؟			
٦	عقد معاهدة سلام مع الأعداء	جعل المهاجرين والأنصار إخوة	توزيع الصدقات على الفقراء
توقيع اتفاقية تجارية			
لماذا سُميت غزوة الخندق أيضاً بغزوة الأحزاب؟			
٧	لأنها وقعت في شهر ذي الحجة	بسبب تحالف قبائل كثيرة ضد المسلمين	لأن المسلمين كانوا منقسمين إلى أحزاب
بسبب وجود خندق كبير			
ما اللقب الذي أطلقه أهل مكة على النبي محمد صلى الله عليه وسلم لأمانته وصدقه؟			
٨	الأمين	الكريم	الصادق الأمين
الشجاع			
...وُلد النبي محمد صلى الله عليه وسلم في عام الفيل الذي يوافق عام			
٩	٦١٠ ميلادي	٥٧١ ميلادي	٦٢٢ ميلادي
٥٧٠ ميلادي			
في أي سنة هجرية وقع صلح الحديبية؟			
١٠	٢ هـ	٥ هـ	٦ هـ
٨ هـ			



من هو الصحابي الجليل الذي أشار على النبي ﷺ بحفر الخندق؟			
١١	عمر بن الخطاب	علي بن أبي طالب	أبو بكر الصديق سلمان الفارسي
رحلة النبي صلى الله عليه وسلم من المسجد الأقصى إلى السماوات العلى تسمى			
١٢	الهجرة	الإسراء	المعراج البعثة
ما السبب الرئيسي الذي دفع النبي صلى الله عليه وسلم وأصحابه للهجرة من مكة؟			
١٣	للبحث عن التجارة	بسبب اشتداد أذى المشركين	للتنزه وزيارة الأقارب لأن مناخ المدينة أفضل
ما الهدف الأساسي من "وثيقة المدينة" التي كتبها النبي صلى الله عليه وسلم؟			
١٤	تحديد أسعار البضائع في السوق	تنظيم العلاقة بين جميع سكان المدينة وتحديد حقوقهم وواجباتهم	كتابة تاريخ المسلمين جمع الأحاديث النبوية
كم كان عمر النبي محمد صلى الله عليه وسلم عندما نزل عليه الوحي في غار حراء؟			
١٥	ثلاثين سنة	أربعين سنة	خمسین سنة ستين سنة
والدة النبي محمد صلى الله عليه وسلم هي			
١٦	حليمة السعدية	فاطمة بنت أسد	آمنة بنت وهب خديجة بنت خويلد
كم كان عمر النبي صلى الله عليه وسلم عندما تزوج السيدة خديجة رضي الله عنها؟			
١٧	أربعين سنة	ثلاثين سنة	خمس وعشرين سنة عشرين سنة
ما هو الحدث الذي وقع في السنة الثانية للهجرة وكان نصرًا للمسلمين؟			
١٨	فتح مكة	غزوة أحد	صلح الحديبية غزوة بدر
الغار الذي كان يتعبد فيه النبي محمد صلى الله عليه وسلم قبل البعثة هو			
١٩	غار ثور	غار حراء	غار أحد غار تبوك
أول من آمن بالنبي صلى الله عليه وسلم من الرجال هو			
٢٠	علي بن أبي طالب	عمر بن الخطاب	عثمان بن عفان أبو بكر الصديق
السؤال الثاني :			
ضع علامة صح (✓) او علامة خطأ (x) امام العبارات التالية :			
١	كان ملك الحبشة ظالمًا، لذلك هاجر إليه المسلمون		x
٢	قضى النبي صلى الله عليه وسلم السنوات الأولى من طفولته في بادية بني سعد		✓



✓	٣	نزل الوحي على النبي صلى الله عليه وسلم لأول مرة في غار حراء
✓	٤	الإسراء هو رحلة النبي صلى الله عليه وسلم من مكة إلى المدينة
✓	٥	بطاعة القائد من أهم أسباب تحقيق النصر
✗	٦	نظمت وثيقة المدينة العلاقة بين المسلمين فقط
✗	٧	حُفر الخندق في الجهة الجنوبية من المدينة المنورة لضعفها
✗	٨	الأنصار هم المسلمون الذين هاجروا مع النبي صلى الله عليه وسلم من مكة
✗	٩	اقتصرت دور المسجد النبوي على الصلاة فقط
✗	١٠	توفي والد النبي صلى الله عليه وسلم بعد ولادته مباشرة
✓	١١	الافتداء بأخلاق النبي صلى الله عليه وسلم من أهداف دراسة سيرته
✓	١٢	السيدة خديجة بنت خويلد هي أول من آمن برسالة النبي صلى الله عليه وسلم
✓	١٣	كان صلح الحديبية اتفاق سلام بين المسلمين والمشركين
✓	١٤	عمل النبي صلى الله عليه وسلم في شبابه برعي الغنم ليساعد عمه أبا طالب
✗	١٥	جد النبي صلى الله عليه وسلم المباشر هو هاشم
✗	١٦	كان النبي صلى الله عليه وسلم يشارك قومه عبادة الأصنام قبل البعثة
✓	١٧	حب الوطن والافتداء بالنبي صلى الله عليه وسلم في ذلك من أهم القيم المستفادة من الهجرة
✓	١٨	"كان اسم المدينة المنورة قبل الهجرة "يثرب"
✗	١٩	حدثت غزوة أحد قبل غزوة بدر
✗	٢٠	فتح النبي ﷺ لمكة كان بعد معركة عفيفة وسفك دماء كثيرة



للمزيد من الاختبارات
على موقع مراجعاتي