

تم تحميل وعرض المادة من :

# مراجعاتي

www.mrajati.net



موقع مراجعاتي هو منصة تعليمية مستقلة وجهد تعليمي تطوعي تهدف إلى تقديم محتوى تعليمي مساعد وخدمات مساندة مجانية للطلاب وأولياء الأمور والمعلمين، بما في ذلك - على سبيل المثال لا الحصر - الحلول التعليمية، الملخصات، أوراق العمل، المراجعات، نماذج الاختبارات التدريبية، الشروحات، والمواد التعليمية المساندة، نحن نسعى جاهدين للتكامل مع المنظومة التعليمية الرسمية بما يخدم مصلحة الطالب والمعلم وولي الأمر،، جزى الله خيراً من بادر وتعاون في تقديم النفع والفائدة.

ذلك قريب منا.. حمل تطبيقنا للوصول الدائم لأسرع المراجعات والحلول التعليمية.



تابع حساباتنا على :

المهارات الحياتية والأسرية	المادة:	بسم الله الرحمن الرحيم
اختبار الفترة الثانية	الاختبار:	
الأول الابتدائي	الصف:	
الدراسي الثاني ١٤٤٧	الفصل:	


اسم الطالب	٢٠
------------	----

السؤال ١: اختر الإجابة الصحيحة من بين البدائل التالية:	٢٠
--	----

٦ / بعد إعطاء البائع النقود واستلام السلعة ، يجب :

أ / الذهاب فوراً .

ب / التأكد من عد النقود المتبقية .



٧ / تسمى الخطوط البيضاء المرسومة على الطريق :

أ / منطقة عبور مشاة .


ب / منطقة وقوف سيارات .



٨ / تسمى الأموال التي توفرها من مصروفك اليومي :

أ / ادخل .


ب / إسراف .



٩ / لكي لا تسبب إزعاج للآخرين أثناء اللعب :

أ / ألع بهدوء .

ب / ألع بصراخ وضجيج .



١٠ / فائدة الإشارة الضوئية هي :

أ / تنظيم حركة السيارات


ب / إنارة الشارع فقط



١ / متى يجب على المشاة العبور ؟

أ / عندما تكون الإشارة حمراء .

ب / عندما تكون الإشارة خضراء .



٢ / السلوك الصحيح عند الشراء من المقصف :

أ / الوقوف في الصف بانتظام .


ب / المزاحمة للوصول أولاً .



٣ / من فوائد اللعب التي تساعد الجسم على النمو :

أ / تنشيط الدورة الدموية .

ب / الجلوس الطويل أمام التلفاز .



٤ / عند عبور الشوارع الرئيسية ، احرص على استخدام

أ / جسر المشاة .

ب / القفز فوق الحواجز .



٥ / أي مكان يعد خطراً ويجب تجنب اللعب فيه :

أ / في الشارع .

ب / في الحديقة .




# نموذج الاجابة

موقع مراجعاتي

اسم الطالب

٢٠

السؤال ١: اختر الإجابة الصحيحة من بين البدائل التالية:

٢٠

٦ / بعد إعطاء البائع النقود واستلام السلعة ، يجب :



أ / الذهاب فوراً .

ب / التأكد من عد النقود المتبقية .

١ / متى يجب على المشاة العبور ؟



أ / عندما تكون الإشارة حمراء .



ب / عندما تكون الإشارة خضراء .

٧ / تسمى الخطوط البيضاء المرسومة على الطريق :



أ / منطقة عبور مشاة .

ب / منطقة وقوف سيارات .

٢ / السلوك الصحيح عند الشراء من المقصف :



أ / الوقوف في الصف بانتظام .

ب / المزاحمة للوصول أولاً .

٨ / تسمى الأموال التي توفرها من مصروفك اليومي :



أ / ادخل .

ب / إسراف .

٣ / من فوائد اللعب التي تساعد الجسم على النمو :



أ / تنشيط الدورة الدموية .

ب / الجلوس الطويل أمام التلفاز .

٩ / لكي لا تسبب إزعاج للآخرين أثناء اللعب :



أ / ألعب بهدوء .

ب / ألعب بصراخ وضجيج .

٤ / عند عبور الشوارع الرئيسية ، احرص على استخدام



أ / جسر المشاة .

ب / القفز فوق الحواجز .

١٠ / فائدة الإشارة الضوئية هي :



أ / تنظيم حركة السيارات

ب / إنارة الشارع فقط

٥ / أي مكان يعد خطراً ويجب تجنب اللعب فيه :



أ / في الشارع .

ب / في الحديقة .

انتهت الأسئلة ..... بالتوفيق

قناة المهارات الحياتية والأسرية للمرحلة الابتدائية

المهارات الحياتية والأسرية	المادة:	بسم الله الرحمن الرحيم	مدرسة:
اختبار الفترة الفصل الثاني	الاختبار:		
اول ابتدائي	الصف:		
٤٥	الزمن:		
الثانية	الفترة:		

اسم الطالب	درجة الطالب	١٣
------------	-------------	----

السؤال الأول: اختر الإجابة الصحيحة:			
٧ درجات			
١- أي من العناصر التالية يجب أن يحتوي عليها فطورك يومياً حسب إرشادات الدرس؟			
(أ) المشروبات الغازية	(ب) الحلوى	(ج) الحليب	(د) البطاطس المقلية
٢- ورقة نقدية واحدة من فئة (هـ ريالاً) تساوي:			
(أ) قطعتين نقديتين من فئة الريال	(ب) ٣ قطع نقدية من فئة الريال	(ج) ٤ قطع نقدية من فئة الريال	(د) ٥ قطع نقدية من فئة الريال
٣- أي من الأنشطة التالية يُعتبر طريقة مثلى لقضاء وقت الفراغ؟			
(أ) العبث بالكتب	(ب) النوم طوال اليوم	(ج) قراءة القرآن والقصص المفيدة	(د) تضييع الوقت بلا فائدة
٤- ماذا يفعل السائق عندما تكون الإشارة الضوئية باللون الأحمر؟			
(أ) يتوقف	(ب) يسير بسرعة	(ج) يستعد للانطلاق	(د) يعطف يميناً
٥- ما هو وقت الفراغ كما ورد في الدرس؟			
(أ) هو الوقت الذي أعمل فيه	(ب) هو الوقت الذي لا أعمل فيه	(ج) هو وقت المدرسة فقط	(د) هو وقت النوم فقط
٦- عندما أشتري من المقصف، يجب أن أختار:			
(أ) كل ما يعجبني حتى لو لم أكن جائعاً	(ب) ما أحتاجه من طعام وشراب	(ج) أغلى الأشياء سعراً	(د) نفس ما اشتراه صديقي فقط
٧- ما هو التصرف الصحيح تجاه الكتب؟			
(أ) العبث بها وتمزيقها	(ب) اللعب بها كالكرة	(ج) المحافظة عليها نظيفة وترتيبها	(د) الأكل والشرب فوقها

السؤال الثاني: ضع علامة (صح) أو (خطأ):		
٦ درجات	#	العبارة
( )	١	يُعد الماء من أكثر العناصر أهمية للجسم ويجب شربه بانتظام.
( )	٢	الادخار هو توفير جزء من المال لوقت الحاجة.
( )	٣	الصحيح هو وضع الوجبة المدرسية مع الكتب الدراسية في نفس الجيب بالحقيبة.
( )	٤	من آداب اللعب احترام الآخرين وعدم التسبب في إزعاجهم.
( )	٥	الإشارة الضوئية تساعد في تنظيم المرور.
( )	٦	من آداب الطعام تناول الأكل أثناء المشي واللعب.



**للمزيد من الاختبارات**  
على موقع مراجعاتي

١ من ١ - انتهت الأسئلة

المهارات الحياتية والأسرية	المادة:
اختبار الفترة الفصل الثاني	الاختبار:
اول ابتدائي	الصف:
٤٥	الزمن:
الثانية	الفترة:
١٣	الب

# نموذج الاجابة

موقع مراجعاتي

## السؤال الأول: اختر الإجابة الصحيحة:

٧ درجات	السؤال الأول: اختر الإجابة الصحيحة:		
١- أي من العناصر التالية يجب أن يحتوي عليها فطورك يومياً حسب إرشادات الدرس؟			
(أ) المشروبات الغازية	(ب) الحلوى	(ج) الحليب	(د) البطاطس المقلية
٢- ورقة نقدية واحدة من فئة (٥ ريالات) تساوي:			
(أ) قطعتين نقديتين من فئة الريال	(ب) ٣ قطع نقدية من فئة الريال	(ج) ٤ قطع نقدية من فئة الريال	(د) ٥ قطع نقدية من فئة الريال
٣- أي من الأنشطة التالية يُعتبر طريقة مثلى لقضاء وقت الفراغ؟			
(أ) العبث بالكتب	(ب) النوم طوال اليوم	(ج) قراءة القرآن والقصص المفيدة	(د) تضييع الوقت بلا فائدة
٤- ماذا يفعل السائق عندما تكون الإشارة الضوئية باللون الأحمر؟			
(أ) يتوقف	(ب) يسير بسرعة	(ج) يستعد للانطلاق	(د) يعطف يمينا
٥- ما هو وقت الفراغ كما ورد في الدرس؟			
(أ) هو الوقت الذي أعمل فيه	(ب) هو الوقت الذي لا أعمل فيه	(ج) هو وقت المدرسة فقط	(د) هو وقت النوم فقط
٦- عندما أشتري من المقصف، يجب أن أختار:			
(أ) كل ما يعجبني حتى لو لم أكن جائعاً	(ب) ما أحتاجه من طعام وشراب	(ج) أغلى الأشياء سعراً	(د) نفس ما اشتراه صديقي فقط
٧- ما هو التصرف الصحيح تجاه الكتب؟			
(أ) العبث بها وتمزيقها	(ب) اللعب بها كالكرة	(ج) المحافظة عليها نظيفة وترتيبها	(د) الأكل والشرب فوقها


## السؤال الثاني: ضع علامة (صح) أو (خطأ):

٦ درجات	السؤال الثاني: ضع علامة (صح) أو (خطأ):	
#	العبرة	الإجابة
١	يُعد الماء من أكثر العناصر أهمية للجسم ويجب شربه بانتظام.	(✓)
٢	الادخار هو توفير جزء من المال لوقت الحاجة.	(✓)
٣	الصحيح هو وضع الوجبة المدرسية مع الكتب الدراسية في نفس الجيب بالحقيبة.	(X)
٤	من آداب اللعب احترام الآخرين وعدم التسبب في إزعاجهم.	(✓)
٥	الإشارة الضوئية تساعد في تنظيم المرور.	(✓)
٦	من آداب الطعام تناول الأكل أثناء المشي واللعب.	(X)



# اختبار

## المهارات الحياتية والأسرية للفصل الأول الابتدائي الفترة الثانية



الفصل : .....

الإسم : .....

اختر الإجابة الصحيحة بوضع علامة ( ✓ ) أمامها:

٢ السلوك الصحيح عند الشراء من المقصف:



- أ. المزاحمة للوصول أولاً.
- ب. الوقوف في الصف بانتظام.

١ يجب على المشاة عبور الإشارة.



- أ. عندما تكون خضراء.
- ب. عندما تكون حمراء.

٤ عند عبور الشوارع الرئيسية، أحرص على استخدام:



- أ. جسر المشاة.
- ب. القفز فوق الحواجز.

٣ من فوائد اللعب التي تساعد على نمو الجسم:



- أ. تنشيط الدورة الدموية.
- ب. الجلوس الطويل أمام التلفاز.

٦ بعد إعطاء البائع النقود واستلام السلعة، يجب:



- أ. التأكد من عد النقود المتبقية.
- ب. الانصراف فوراً.

٥ أي مكان يعد خطراً ويجب تجنب اللعب فيه؟



- أ. المطبخ أو الشارع.
- ب. حديقة المنزل.

٨ ماذا تسمى الأموال التي توفرها من مصروفك؟



- أ. ادخار.
- ب. إسرافاً.

٧ تسمى الخطوط البيضاء على الطريق منطقة:



- أ. عبور المشاة.
- ب. وقوف السيارات.

١٠ فائدة الإشارة الضوئية هي:



- أ. تنظيم حركة السيارات.
- ب. إنارة الشارع فقط.

٩ لكي لا تسبب إزعاجاً للآخرين أثناء اللعب:




- أ. اللعب بهدوء.
- ب. اللعب بصراخ وضجيج.



# اختبار

المهارات الحياتية والأسرية  
للفصل الأول الابتدائي  
الفترة الثانية



## نموذج الاجابة

موقع مراجعاتي

الإسم: .....

اختر الإجابة الصحيحة بوضع علامة (✓) أمامها:

٢ السلوك الصحيح عند الشراء من المقصف:



- أ. المزاحمة للوصول أولاً.
- ب. الوقوف في الصف بانتظام.

١ يجب على المشاة عبور الإشارة.



- أ. عندما تكون خضراء.
- ب. عندما تكون حمراء.

٤ عند عبور الشوارع الرئيسية، أحرص على استخدام:



- أ. جسر المشاة.
- ب. القفز فوق الحواجز.

٣ من فوائد اللعب التي تساعد على نمو الجسم:



- أ. تنشيط الدورة الدموية.
- ب. الجلوس الطويل أمام التلفاز.

٦ بعد إعطاء البائع النقود واستلام السلعة، يجب:



- أ. التأكد من عد النقود المتبقية.
- ب. الانصراف فوراً.

٥ أي مكان يعد خطراً ويجب تجنب اللعب فيه؟



- أ. المطبخ أو الشارع.
- ب. حديقة المنزل.

٨ ماذا تسمى الأموال التي توفرها من مصروفك؟



- أ. ادخار.
- ب. إسرافاً.

٧ تسمى الخطوط البيضاء على الطريق منطقة:



- أ. عبور المشاة.
- ب. وقوف السيارات.

١٠ فائدة الإشارة الضوئية هي:



- أ. تنظيم حركة السيارات.
- ب. إنارة الشارع فقط.

٩ لكي لا تسبب إزعاجاً للآخرين أثناء اللعب:



- أ. اللعب بهدوء.
- ب. اللعب بصراخ وضجيج.