

تم تحميل وعرض المادة من :

# مراجعاتي

www.mrajati.net



موقع مراجعاتي هو منصة تعليمية مستقلة وجهد تعليمي تطوعي تهدف إلى تقديم محتوى تعليمي مساعد وخدمات مساندة مجانية للطلاب وأولياء الأمور والمعلمين، بما في ذلك - على سبيل المثال لا الحصر - الحلول التعليمية، الملخصات، أوراق العمل، المراجعات، نماذج الاختبارات التدريبية، الشروحات، والمواد التعليمية المساندة، نحن نسعى جاهدين للتكامل مع المنظومة التعليمية الرسمية بما يخدم مصلحة الطالب والمعلم وولي الأمر،،، جزى الله خيراً من بادر وتعاون في تقديم النفع والفائدة.

ذلك قريب منا.. حمل تطبيقنا للوصول الدائم لأسرع المراجعات والحلول التعليمية.



تابع حساباتنا على :

اليوم	
التاريخ	
المادة	رياضيات
الفترة	الأولى

اختبار مادة الرياضيات للصف الأول الابتدائي (الفترة الثانية) الفصل الدراسي (الثاني) للعام ١٤٤٧ هـ

اسم الطالب / ة	.....
الصف:	أولى / .....
الدرجة المستحقة	٢٠

<p>السؤال الأول: اكتب عدد الآحاد والعشرات ثم اكتب العدد</p> <table border="1"> <tr> <th>عَشْرَات</th> <th>آحَاد</th> </tr> <tr> <td> <input type="checkbox"/><input type="checkbox"/><input type="checkbox"/><input type="checkbox"/><input type="checkbox"/><input type="checkbox"/><input type="checkbox"/><input type="checkbox"/><input type="checkbox"/><input type="checkbox"/><input type="checkbox"/>  <input type="checkbox"/><input type="checkbox"/><input type="checkbox"/><input type="checkbox"/><input type="checkbox"/><input type="checkbox"/><input type="checkbox"/><input type="checkbox"/><input type="checkbox"/><input type="checkbox"/>  <input type="checkbox"/><input type="checkbox"/><input type="checkbox"/><input type="checkbox"/><input type="checkbox"/><input type="checkbox"/><input type="checkbox"/><input type="checkbox"/><input type="checkbox"/><input type="checkbox"/> </td> <td> <input type="checkbox"/>  <input type="checkbox"/>  <input type="checkbox"/> </td> </tr> </table> <p>_____ آحَادٍ _____ عَشْرَاتٍ _____ أَرْبَعَةٌ وَثَلَاثُونَ</p>	عَشْرَات	آحَاد	<input type="checkbox"/> <input type="checkbox"/> <input type="checkbox"/> <input type="checkbox"/> <input type="checkbox"/> <input type="checkbox"/> <input type="checkbox"/> <input type="checkbox"/> <input type="checkbox"/> <input type="checkbox"/> <input type="checkbox"/> <input type="checkbox"/> <input type="checkbox"/> <input type="checkbox"/> <input type="checkbox"/> <input type="checkbox"/> <input type="checkbox"/> <input type="checkbox"/> <input type="checkbox"/> <input type="checkbox"/> <input type="checkbox"/> <input type="checkbox"/> <input type="checkbox"/> <input type="checkbox"/> <input type="checkbox"/> <input type="checkbox"/> <input type="checkbox"/> <input type="checkbox"/> <input type="checkbox"/> <input type="checkbox"/> <input type="checkbox"/>	<input type="checkbox"/> <input type="checkbox"/> <input type="checkbox"/>	<p>السؤال الثاني: قدر عدد المكعبات، ثم أوجد العدد الحقيقي</p> <p>التقدير: _____</p> <p>العدد الحقيقي: _____</p>
عَشْرَات	آحَاد				
<input type="checkbox"/> <input type="checkbox"/> <input type="checkbox"/> <input type="checkbox"/> <input type="checkbox"/> <input type="checkbox"/> <input type="checkbox"/> <input type="checkbox"/> <input type="checkbox"/> <input type="checkbox"/> <input type="checkbox"/> <input type="checkbox"/> <input type="checkbox"/> <input type="checkbox"/> <input type="checkbox"/> <input type="checkbox"/> <input type="checkbox"/> <input type="checkbox"/> <input type="checkbox"/> <input type="checkbox"/> <input type="checkbox"/> <input type="checkbox"/> <input type="checkbox"/> <input type="checkbox"/> <input type="checkbox"/> <input type="checkbox"/> <input type="checkbox"/> <input type="checkbox"/> <input type="checkbox"/> <input type="checkbox"/> <input type="checkbox"/>	<input type="checkbox"/> <input type="checkbox"/> <input type="checkbox"/>				

<p>السؤال الثالث: أجب عما يلي</p> <p>(أ) اكتب العدد الذي يسبق مباشرة العدد المعطى</p> <p>30 31 32 33 34 35</p> <p>32، _____ ①</p>	<p>(ب) اكتب العدد الذي يلي مباشرة العدد المعطى</p> <p>40 41 42 43 44 45</p> <p>_____، 42 ②</p>
<p>(ج) اكتب العدد الذي يقع بين العددين</p> <p>90 91 92 93 94 95 96</p> <p>92، _____، 94 ③</p>	

<p>السؤال الرابع: استخدم العد القفزي لحل مايلي</p> <p>٢ ، ٤ ، ٦ ، ٨ ، _____ ، ١٢ ، _____ ، ١٦</p> <p>٥ ، ١٠ ، ١٥ ، ٢٠ ، _____ ، _____ ، ٣٥</p>	<p>١٠ ، ٢٠ ، _____ ، _____ ، ٥٠</p>
--	-------------------------------------

اليوم	
التاريخ	
المادة	رياضيات
الفترة	الأولى

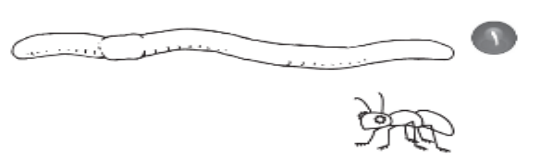

السؤال الخامس: أجب عما يلي

١- أكتب < أو > أو = في ○ :

٩٤ ○ ٧٤

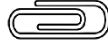
٤٨ ○ ٥١

٢- حوِّط الكلمة المناسبة (أطول من ، أقصر من) للمقارنة بين الأطوال




قَلَمُ التَّخْطِيطِ (أطول من ، أقصر من) قَلَمُ الرَّصَاصِ.

النَّمْلَةُ (أطول من ، أقصر من) الدُّودَةُ.

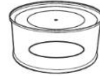


٣- أيها الأخف

٤- أيها الأثقل:



٥- حوِّط الأكثر سرعة



٦- لدى كل من عمرو و بدر ١٠ ريالات ، فكم ريالاً لديهما ؟

.....

٧- اكتب الأعداد في المسألة التالية بالترتيب

لدى ماهر ١٠ ريالات ولدى فهد ٣٥ ريالاً ولدى بدر ١٦ ريالاً

..... ، ..... ، .....

# نموذج الاجابة

## موقع مراجعاتي

اليوم	
التاريخ	
المادة	رياضيات
الفترة	الأولى

اختبار مادة الرياضيات للصف الأول الابتدائي (الفترة الثانية) الفصل الدراسي (الثاني) للعام ١٤٤٧ هـ

### نموذج الإجابة

السؤال الثاني: قدر عدد المكعبات، ثم أوجد العدد الحقيقي

التقدير:  $\frac{40}{100}$

العدد الحقيقي:  $\frac{26}{100}$

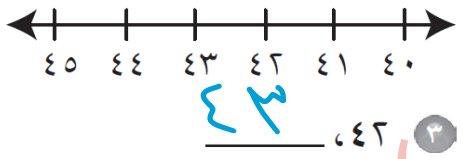
السؤال الأول: اكتب عدد الآحاد والعشرات ثم اكتب العدد

عشرات: ٣  
آحاد: ٤  
العدد: ٣٤

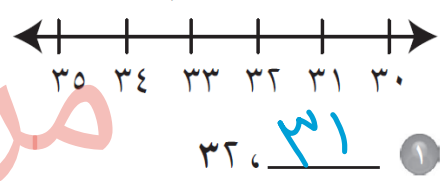
عشرات	آحاد
□□□□□□□□	□
□□□□□□□□	□
□□□□□□□□	□

السؤال الثالث: أجب عما يلي

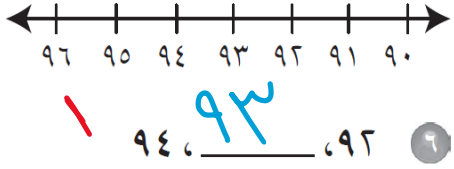
(ب) اكتب العدد الذي يلي مباشرة العدد المعطى



(أ) اكتب العدد الذي يسبق مباشرة العدد المعطى



(ج) اكتب العدد الذي يقع بين العددين



السؤال الرابع: استخدم العد القفزي لحل مايلي

٢ ، ٤ ، ٦ ، ٨ ، ١٠ ، ١٢ ، ١٤ ، ١٦

٥ ، ١٠ ، ١٥ ، ٢٠ ، ٢٥ ، ٣٠ ، ٣٥

١٠ ، ٢٠ ، ٣٠ ، ٤٠ ، ٥٠

اليوم	
التاريخ	
المادة	رياضيات
الفترة	الأولى


السؤال الخامس: أجب عما يلي

١- أكتب < أو > أو = في ○ :

٩٤ > ٧٤

٤٨ < ٥١

٢- حوِّط الكلمة المناسبة ( أطول من ، أقصر من ) للمقارنة بين الأطوال



قَلَمُ التَّخْطِيطِ (أَطْوَلُ مِنْ ، أَقْصَرُ مِنْ) قَلَمِ الرَّصَاصِ.



النَّمْلَةُ (أَطْوَلُ مِنْ ، أَقْصَرُ مِنْ) الدُّوْدَةِ.




٣- أيها الأخف

٤- أيها الأثقل:



٥- حوِّط الأكثر سرعة



٦- لدى كل من عمرو و بدر ١٠ ريالات ، فكم ريالاً لديهما ؟

٢٠

٧- اكتب الأعداد في المسألة التالية بالترتيب

لدى ماهر ١٠ ريالات ولدى فهد ٣٥ ريالاً ولدى بدر ١٦ ريالاً

٣٥ ، ١٦ ، ١٠